

お金の計算②









下のレシートを見ておつりを計算し、その金額のお金に○を付けましょう。

実施日： 年 月 日 名前 ()

①

SHOP	
領収書	
お買い上げ	¥1,200
支払い	¥2,000
おつり	
円	








おつり

②

SHOP	
領収書	
お買い上げ	¥2,350
支払い	¥3,000
おつり	
円	

おつり

③

SHOP	
領収書	
お買い上げ	¥4,369
支払い	¥5,000
おつり	
円	

おつり

